

# Итоговая контрольная работа по математике 2кл

Выполнил \_\_\_\_\_ Дата \_\_\_\_\_

## Оценочный лист

№ зад.	Проверяемые умения	Моя оценка	Оценка учителя
1	<p style="text-align: center;"><u>Действия с числами</u></p> <p>Знаю ли я порядок действий в выражении                      Умею ли складывать и вычитать в пределах 10, 100                      Умею ли складывать и вычитать многозначные числа                      Умею ли сравнивать многозначные числа                      Знаю ли я таблицу умножения и деления на 2, 3                      Умею ли я работать с именованными числами</p>		
2	<p style="text-align: center;"><u>Текстовые задачи</u></p> <p>Умею ли я решать задачи</p>		
3	<p style="text-align: center;"><u>Математический язык</u></p> <p>Умею ли я решать уравнения                      Умею ли я составлять чертёж, схему                      Умею ли я составлять математическое выражение_</p>		
4	<p style="text-align: center;"><u>Измерение и построение величин</u></p> <p>Умею ли я строить величину                      Умею ли я измерять величину</p>		
5	<p style="text-align: center;"><u>Геометрические фигуры</u></p> <p>Знаю ли я геометрические фигуры                      Умею ли я измерять геометрические фигуры</p>		

### №1. Действия с числами

**а) Найди** значение выражения, укажи порядок действий:

$$8236 - (1565 + 837) - 4905 =$$

1)


2)


3)


**б) Сравни :**

$5 + 3 \dots 5 * 3$

$5 \odot \otimes \dots \heartsuit 499$

$2 * 8 \dots 8 * 2$

**в) Вычисли:**


$27 \text{ кг} + 49 \text{ кг} = \underline{\hspace{2cm}}$

$43 \text{ дм } 18 \text{ м } 6 \text{ см} - 16 \text{ дм } 9 \text{ м} = \underline{\hspace{2cm}}$

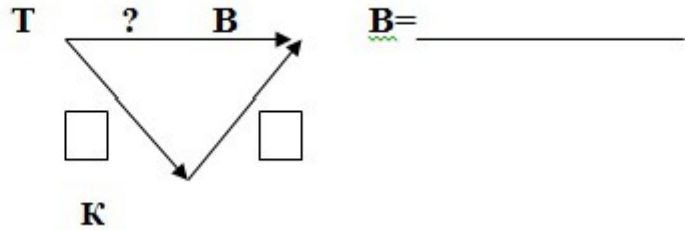

$33 \text{ км} - 7 \text{ мин} = \underline{\hspace{2cm}}$




## №4. Измерение и построение величин

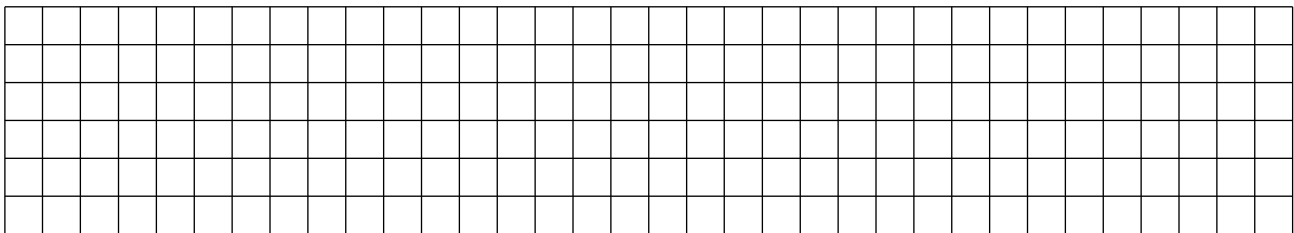
а) Измерь меркой **Т**  величину **В** с помощью промежуточной мерки **К**.

Заполни схему. Составь выражение для нахождения количества **В**.




б) Построй площадь **К** по числу  $231_{(4)}$ , если известна мерка **Е<sub>1</sub>** .

Сначала построй необходимые мерки: (раскрась мерки разными цветами)



Теперь построй площадь **К**:



## №5. Геометрические фигуры

а) Построй прямоугольник: длина прямоугольника 6 см, а ширина на 4 см меньше.

Найди периметр прямоугольника.

Решение: \_\_\_\_\_

Ответ: \_\_\_\_\_

б) Дострой чертеж так, чтобы  $\angle VAT$  был острым,  $\angle MKE$  – тупым,  $\angle CDP$  – прямым

